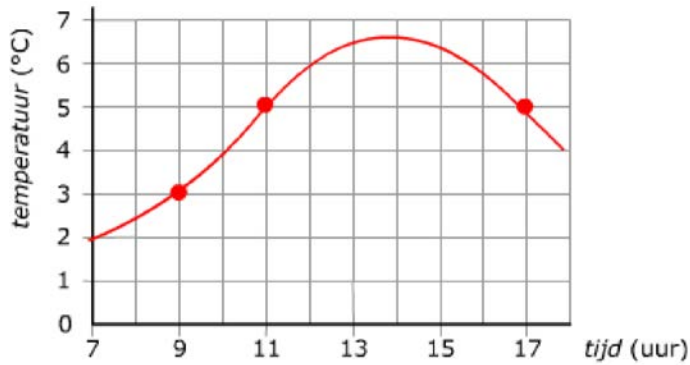
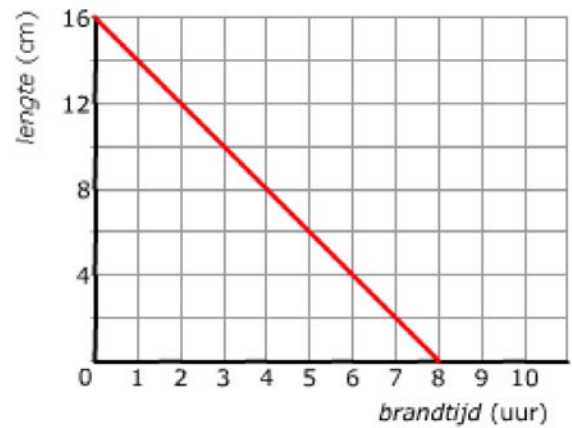


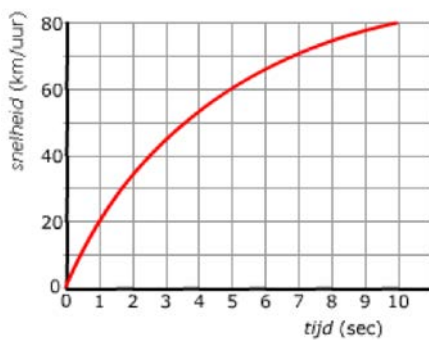
§1 opdracht 1.



§1 opdracht 2.



§1 opdracht 9.

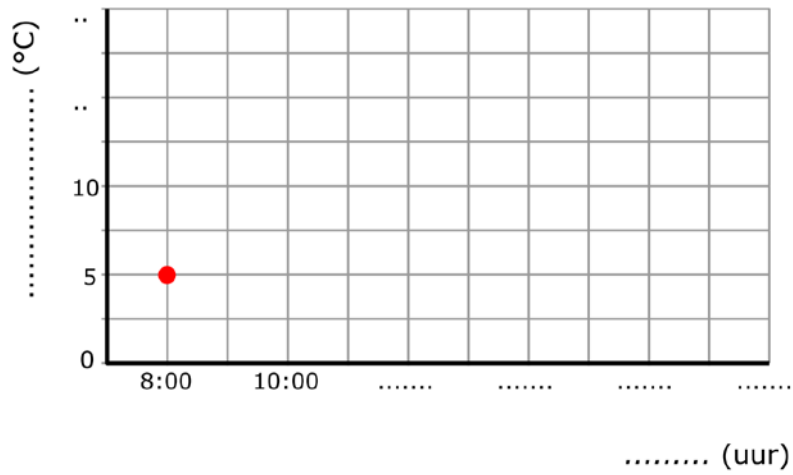


§2 opdracht 2.

Micha werkt bij een supermarkt. Een aantal uren per week vult hij de schappen bij. Daar verdient hij €2,20 per uur mee. Afgelopen maand heeft Micha 11 uur gewerkt. Hij wil graag berekenen hoeveel euro hij heeft verdient.

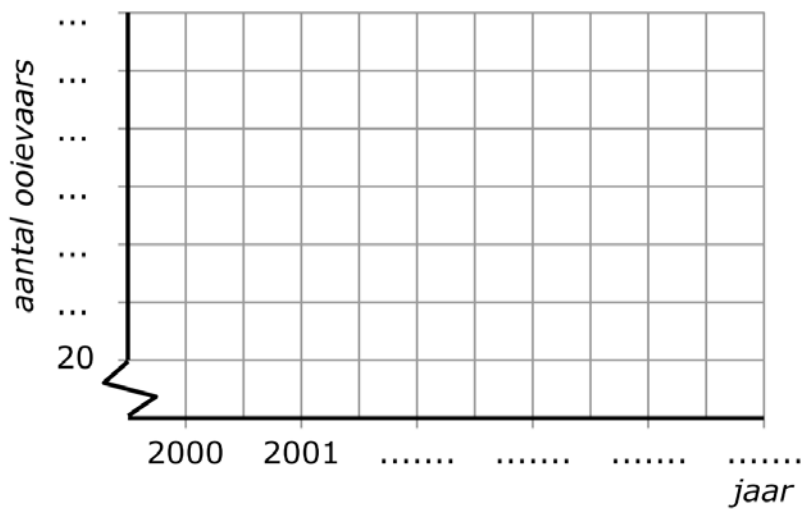
§4 opdracht 1.

<i>tijd (uur)</i>	8:00	10:00	12:00	14:00	16:00	18:00
<i>temperatuur (°C)</i>	5	10	12,5	15	15	10



§4 opdracht 3.

<i>jaar</i>	2000	2001	2002	2003	2004	2005
<i>aantal ooievaars</i>	35	30	25	40	45	25



§4 opdracht 6.

Aantal dagen	0	1	2	3	4
Aantal views	0	200	600	1200	2000

